



第4课时 乘加 乘减

基础过关

bǐ yì bǐ suàn yì suàn
一、比一比，算一算。

$5 \times 2 + 5 =$

$4 \times 3 - 4 =$

$2 \times 4 + 4 =$

$4 \times 5 - 4 =$

$5 \times 3 =$

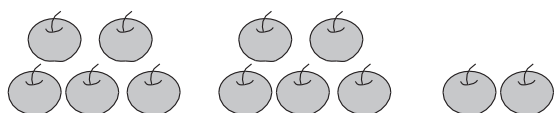
$4 \times 2 =$

$4 \times 3 =$

$4 \times 4 =$


kàn tú tián xiě hé shì de shù hé yùn suàn fú hào
二、看图填写合适的数和运算符号。

1.



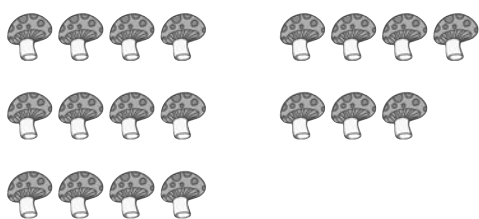
$\square \times \square \bigcirc \square = \square$

2.




$\square \times \square \bigcirc \square = \square$

3.



$\square \square \bigcirc \square = \square$

4.



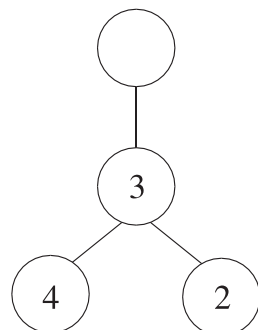
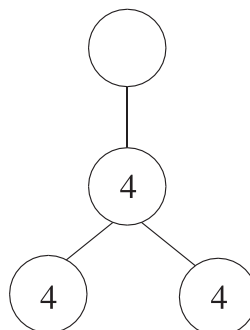
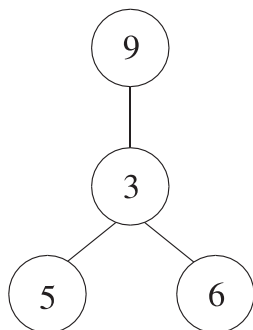
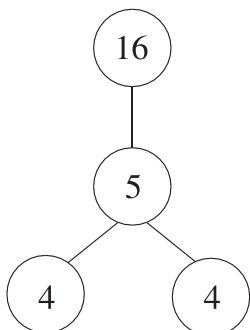
$\square \square \bigcirc \square = \square$

yí gòng yǒu duō shǎo piàn yè zi
三、一共有多少片叶子？



能力提升

gēn jù guī lǜ tián kòng
四、根据规律填空。





重难点练习四

(匹配教科书第 52~62 页内容)

yòng kǒu jué xiě chū liǎng gè chéng fǎ suàn shì

一、用 口 诀 写 出 两 个 乘 法 算 式。

二五一十

四五二十

三六十八

xuǎn yì xuǎn jiāng zhèng què dá àn de xù hào tián zài kuò hào lǐ

二、选 一 选。(将 正 确 答 案 的 序 号 填 在 括 号 里)

1. 2 个 5 相乘,积是()。

①7

②10

③25

2. 根据“六六三十六”这句乘法口诀可以写出的算式是()。

① $1 \times 6 = 6$

② $6 + 6 = 12$

③ $6 \times 6 = 36$

3. 下面算式中,得数最小的是()。

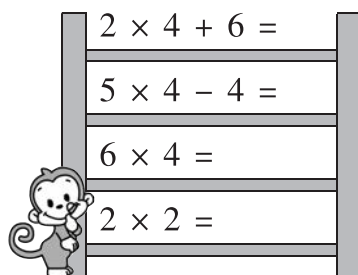

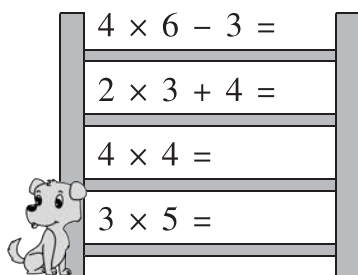
① 3×2

② 4×5

③ 6×3

pá tī zi suàn yì suàn

三、爬 梯 子。(算 一 算)



zài lǐ tián shàng

huò

四、在 里 填 上 “+”“-”或 “×”。

4 2 = 8

6 5 = 30

5 2 = 10

3 3 = 6

3 6 = 18

18 6 = 12


4 4 = 8

4 5 = 20

kàn tú liè suàn shì


五、看 图 列 算 式。

1.



× =

2.



× ○ = ()



第4课时 乘加 乘减

基础过关

bǐ yì bǐ suàn yì suàn
一、比一比，算一算。

$$5 \times 2 + 5 = 15$$

$$4 \times 3 - 4 = 8$$

$$2 \times 4 + 4 = 12$$

$$4 \times 5 - 4 = 16$$

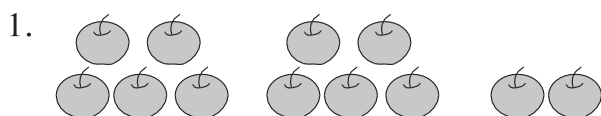
$$5 \times 3 = 15$$

$$4 \times 2 = 8$$

$$4 \times 3 = 12$$

$$4 \times 4 = 16$$

kàn tú tián xiě hé shì de shù hé yùn suàn fú hào
二、看图填写合适的数和运算符号。



$$\boxed{5} \times \boxed{2} \oplus \boxed{2} = \boxed{12}$$

(或 $5 \times 3 - 3 = 12$)




$$\boxed{4} \times \boxed{4} \oplus \boxed{3} = \boxed{19}$$

(或 $4 \times 5 - 1 = 19$)



$$\boxed{4} \times \boxed{3} \oplus \boxed{3} = \boxed{15}$$

(或 $4 \times 4 - 1 = 15$)



$$\boxed{2} \times \boxed{3} \oplus \boxed{1} = \boxed{7}$$

(或 $2 \times 4 - 1 = 7$)

yí gòng yǒu duō shǎo piàn yè zi
三、一共有多少片叶子？

$$3 \times 3 + 2 = 11(\text{片})$$

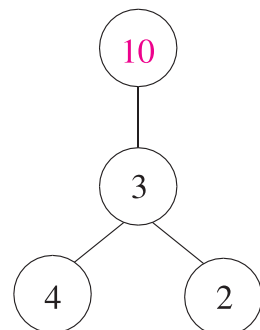
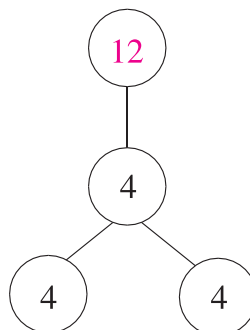
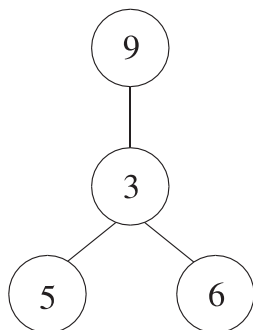
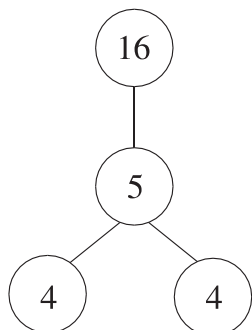
$$(\text{或 } 3 \times 4 - 1 = 11(\text{片}))$$

答：一共有11片叶子。



能力提升

gēn jù guī lǜ tián kòng
四、根据规律填空。





重难点练习四

(匹配教科书第 52~62 页内容)

yòng kǒu jué xiě chū liǎng gè chéng fǎ suàn shì

一、用 口 诀 写 出 两 个 乘 法 算 式。

二五一十

$$2 \times 5 = 10$$

$$5 \times 2 = 10$$

四五二十

$$4 \times 5 = 20$$

$$5 \times 4 = 20$$

三六十八

$$3 \times 6 = 18$$

$$6 \times 3 = 18$$

xuǎn yì xuǎn jiāng zhèng què dá àn de xù hào tián zài kuò hào lǐ

二、选 一 选。(将 正 确 答 案 的 序 号 填 在 括 号 里)

1. 2 个 5 相乘,积是(③)。

①7

②10

③25

2. 根据“六六三十六”这句乘法口诀可以写出的算式是(③)。

① $1 \times 6 = 6$

② $6 + 6 = 12$

③ $6 \times 6 = 36$

3. 下面算式中,得数最小的是(①)。

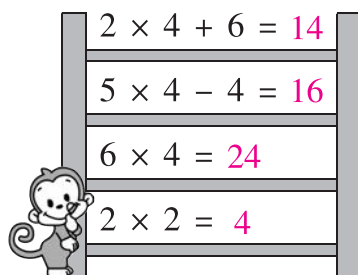
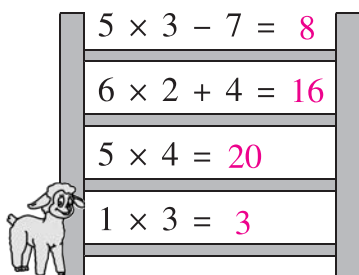
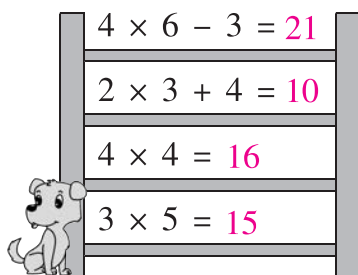
① 3×2

② 4×5

③ 6×3

pá tī zi suàn yì suàn

三、爬 梯 子。(算 一 算)



zài lǐ tián shàng

四、在 里 填 上 “+” “-” 或 “×”。

$$4 \times 2 = 8$$

$$6 \times 5 = 30$$

$$5 \times 2 = 10$$

$$3 + 3 = 6$$

$$3 \times 6 = 18$$

$$18 - 6 = 12$$


$$4 + 4 = 8$$

$$4 \times 5 = 20$$

kàn tú liè suàn shì


五、看 图 列 算 式。

1.



$$5 \times 2 = 10$$

2.



$$3 \times 5 + 2 = 17 \text{ (个)}$$

(或 $3 \times 6 - 1 = 17 \text{ (个)}$)